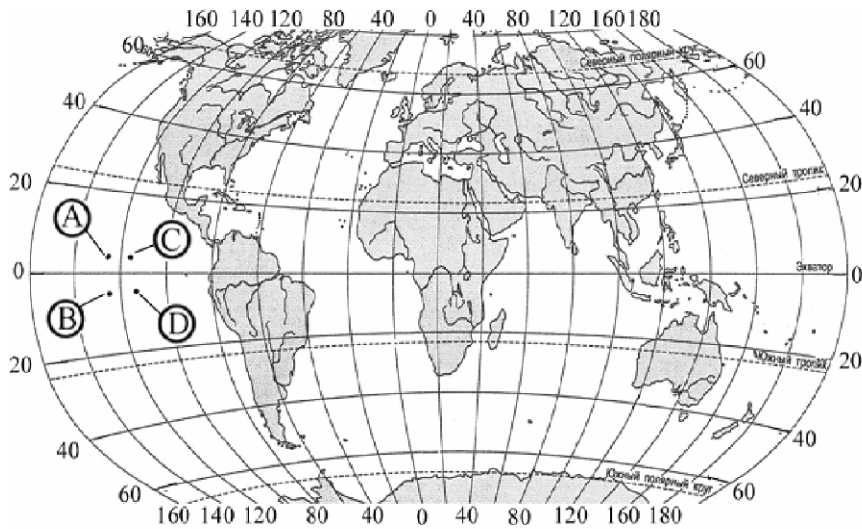
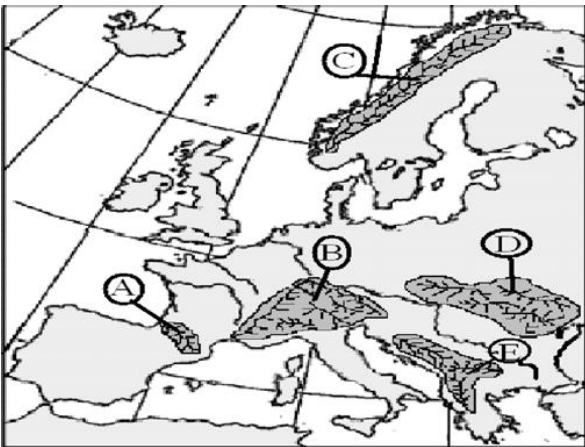


სავარჯიშო ტესტი გეოგრაფიაში (მე-11, მე-12 კლასებისათვის)

1. მოცემული ინფორმაციის მიხედვით განსაზღვრეთ A,B,C,D წერტილების გეოგრაფიული კოორდინატები

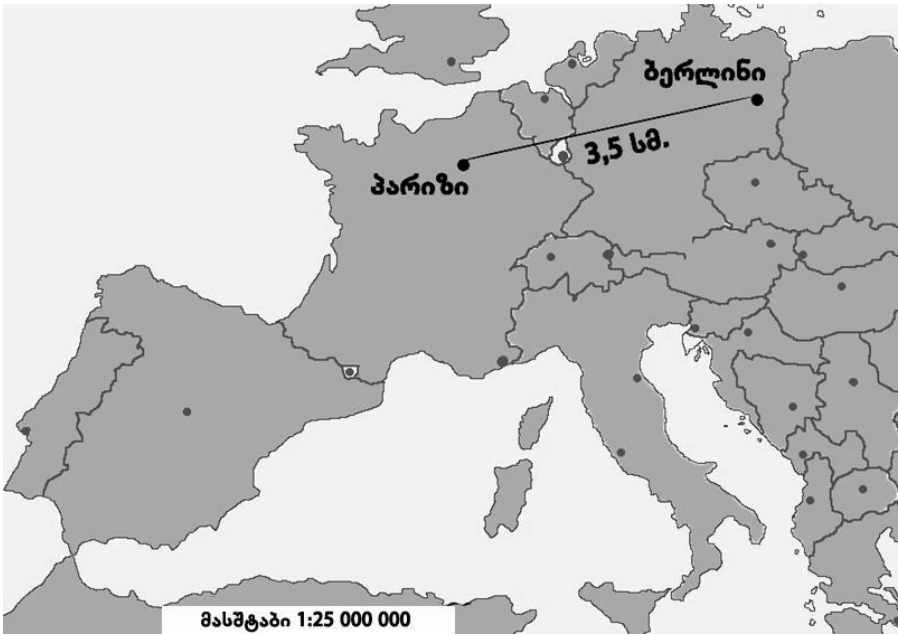


2. მოცემული კონტურული რუკის გამოყენებით განსაზღვრეთ რომელი მთებია აღნიშნული A,B,C,D,E ლათინური ასოებით?



3. გამოიყენეთ რუკა და განსაზღვრეთ, რას უდრის მანძილი პარიზიდან ბერლინამდე?

- ა. 685 კმ
- ბ. 875 კმ
- გ. 1100 კმ
- დ. 1870 კმ



4. იპოვეთ აზიის კონტურულ რუკაზე დაშვებული 6 შეცდომა და გაასწორეთ

